



1. Отметьте на координатной прямой число  $\sqrt{102}$ .




2. Отметьте на координатной прямой число  $9\sqrt{2}$ .




3. Отметьте на координатной прямой число  $2\sqrt{2}$ .




4. Отметьте на координатной прямой число  $3\sqrt{17}$ .




5. Отметьте на координатной прямой число  $\sqrt{159}$ .




6. Отметьте на координатной прямой число  $\sqrt{119}$ .




7. Отметьте на координатной прямой число  $\sqrt{77}$ .




8. Отметьте на координатной прямой число  $\sqrt{187}$ .




9. Отметьте на координатной прямой число  $\sqrt{173}$ .




10. Отметьте на координатной прямой число  $2\sqrt{13}$ .




11. Отметьте на координатной прямой число  $\sqrt{38}$ .




12. Отметьте на координатной прямой число  $\sqrt{83}$ .




13. Отметьте на координатной прямой число  $\sqrt{113}$ .




14. Отметьте на координатной прямой число  $\sqrt{67}$ .




15. Отметьте на координатной прямой число  $\sqrt{46}$ .




16. Отметьте на координатной прямой число  $\sqrt{178}$ .




17. Отметьте на координатной прямой число  $\sqrt{62}$ .




18. Отметьте на координатной прямой число  $\sqrt{97}$ .



19. Отметьте на координатной прямой число  $4\sqrt{6}$ .




20. Отметьте на координатной прямой число  $2\sqrt{34}$ .




21. Отметьте на координатной прямой число  $\sqrt{185}$ .




22. Отметьте на координатной прямой число  $2\sqrt{11}$ .




23. Отметьте на координатной прямой число  $\sqrt{93}$ .




24. Отметьте на координатной прямой число  $\sqrt{33}$ .




25. Отметьте на координатной прямой число  $\sqrt{123}$ .



26. Отметьте на координатной прямой число  $2\sqrt{37}$ .



27. Отметьте на координатной прямой число  $2\sqrt{31}$ .



28. Отметьте на координатной прямой число  $\sqrt{95}$ .

