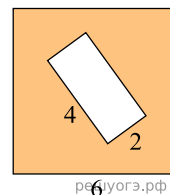


1. Сторона квадрата равна 10. Найдите его площадь.

2.

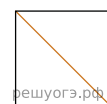
Из квадрата вырезали прямоугольник (см. рис.). Найдите площадь получившейся фигуры.



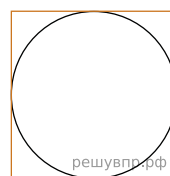
3. Периметр квадрата равен 160. Найдите площадь квадрата.



4. Найдите площадь квадрата, если его диагональ равна 1.



5. Найдите площадь квадрата, описанного вокруг окружности радиуса 83.



6. Найдите площадь квадрата, описанного вокруг окружности радиуса 7.

