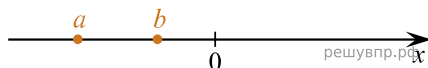
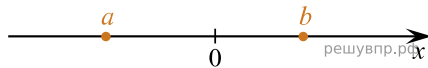


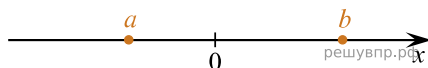
1. На координатной прямой отмечены числа a и b . Отметьте на прямой какую-нибудь точку x так, чтобы при этом выполнялись три условия: $x - a > 0$, $x - b > 0$ и $a^2x > 0$.



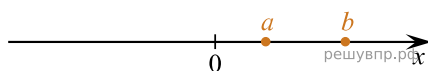
2. На координатной прямой отмечены числа 0 , a и b . Отметьте на этой прямой какое-нибудь число x так, чтобы при этом выполнялись три условия: $x - a > 0$, $-x + b > 0$ и $abx < 0$.



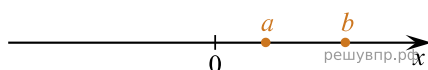
3. На координатной прямой отмечены числа 0 , a и b . Отметьте на этой прямой какое-нибудь число x так, чтобы при этом выполнялись три условия: $-x + a < 0$, $x - b < 0$ и $ax < 0$.




4. На координатной прямой отмечены числа 0 , a и b . Отметьте на этой прямой какое-нибудь число x так, чтобы при этом выполнялись три условия: $x - a < 0$, $x - b < 0$ и $\frac{x}{b} < 0$.



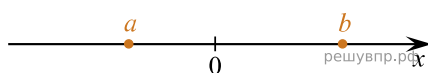
5. На координатной прямой отмечены числа 0 , a и b . Отметьте на этой прямой какое-нибудь число x так, чтобы при этом выполнялись три условия: $x - a < 0$, $-x + b > 0$ и $bx > 0$.




6. На координатной прямой отмечены числа a , b и c . Отметьте на этой прямой какое-нибудь число x так, чтобы при этом выполнялись три условия: $-a + x > 0$, $x - b > 0$, $x - c < 0$.



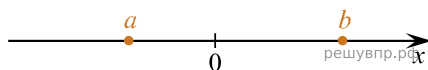
7. На координатной прямой отмечены числа 0 , a и b . Отметьте на этой прямой какое-нибудь число x так, чтобы при этом выполнялись три условия: $-a + x > 0$, $b - x > 0$, $a^2x < 0$.



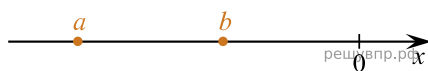
8. На координатной прямой отмечены числа a , b и c . Отметьте на этой прямой какое-нибудь число x так, чтобы при этом выполнялись три условия: $a - x < 0$, $-b + x > 0$, $-x + c > 0$.




9. На координатной прямой отмечены числа 0 , a и b . Отметьте на этой прямой какое-нибудь число x так, чтобы при этом выполнялись три условия: $x - a > 0$, $x - b < 0$, $-ax < 0$.



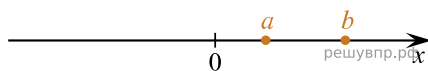
10. На координатной прямой отмечены числа 0 , a и b . Отметьте на этой прямой какое-нибудь число x так, чтобы при этом выполнялись три условия: $x - a > 0$, $x - b > 0$, $-abx > 0$.




11. На координатной прямой отмечены числа a , b и c . Отметьте на этой прямой какое-нибудь число x так, чтобы при этом выполнялись три условия: $x - a > 0$, $-x + b > 0$, $-x + c > 0$.




12. На координатной прямой отмечены числа 0 , a и b . Отметьте на этой прямой какое-нибудь число x так, чтобы при этом выполнялись три условия: $x - a < 0$, $x - b < 0$, $-\frac{ax}{b} < 0$.



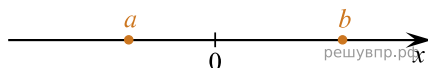
13. На координатной прямой отмечены числа a , b , c . Отметьте на этой прямой какое-нибудь число x так, чтобы при этом выполнялись три условия: $-a + x > 0$, $-x + b < 0$, $x - c < 0$.




14. На координатной прямой отмечены числа 0 , a , b . Отметьте на этой прямой какое-нибудь число x так, чтобы при этом выполнялись три условия: $-x + a > 0$, $x - b < 0$, $\frac{ax}{b} > 0$.




15. На координатной прямой отмечены числа 0 , a , b . Отметьте на этой прямой какое-нибудь число x так, чтобы при этом выполнялись три условия: $x - a > 0$, $x - b < 0$, $abx > 0$.



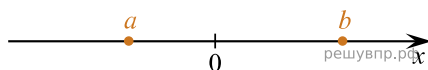
16. На координатной прямой отмечены числа a , b и c . Отметьте на этой прямой какое-нибудь число x так, чтобы при этом выполнялись три условия: $a - x < 0$, $-b + x < 0$, $x - c < 0$.



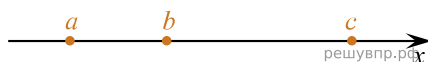
17. На координатной прямой отмечены числа 0 , a и b . Отметьте на этой прямой какое-нибудь число x так, чтобы при этом выполнялись три условия: $-x + a > 0$, $x - b < 0$, $bx > 0$.



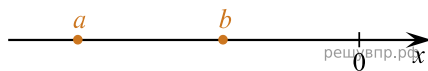
18. На координатной прямой отмечены числа 0 , a и b . Отметьте на этой прямой какое-нибудь число x так, чтобы при этом выполнялись три условия: $a - x < 0$, $b - x > 0$, $a^2x > 0$.



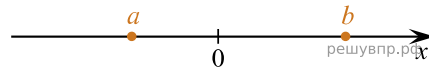
19. На координатной прямой отмечены числа a , b и c . Отметьте на этой прямой какое-нибудь число x так, чтобы при этом выполнялись три условия: $x - a > 0$, $b - x < 0$, $x - c < 0$.




20. На координатной прямой отмечены числа 0 , a , b . Отметьте на этой прямой какое-нибудь число x так, чтобы при этом выполнялись три условия: $-x + a < 0$, $x - b > 0$, $abx < 0$.




21. На координатной прямой отмечены числа $0, a, b$. Отметьте на этой прямой какое-нибудь число x так, чтобы при этом выполнялись три условия: $x - a > 0, -x + b > 0, ax < 0$.




22. На координатной прямой отмечены числа a, b и c . Отметьте на этой прямой какое-нибудь число x так, чтобы при этом выполнялись три условия: $-a + x > 0, b - x < 0, x - c < 0$.




23. На координатной прямой отмечены числа a, b и c . Отметьте на этой прямой какое-нибудь число x так, чтобы при этом выполнялись три условия: $-a + x > 0, x - b < 0, -x + c > 0$.



24. На координатной прямой отмечены числа a, b и c . Отметьте на этой прямой какое-нибудь число x так, чтобы при этом выполнялись три условия: $-a + x > 0, b - x < 0, -x + c > 0$.



25. На координатной прямой отмечены числа a, b и c . Отметьте на этой прямой какое-нибудь число x так, чтобы при этом выполнялись три условия: $a - x < 0, x - b > 0, x - c < 0$.



26. На координатной прямой отмечены числа a, b и c . Отметьте на этой прямой какое-нибудь число x так, чтобы при этом выполнялись три условия: $a - x < 0, b - x < 0, -x + c > 0$.

