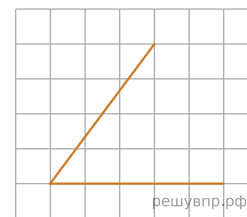


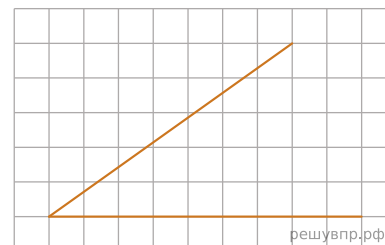
1. На клетчатой бумаге с размером клетки 1×1 изображен острый угол. Найдите тангенс этого угла.

Ответ:



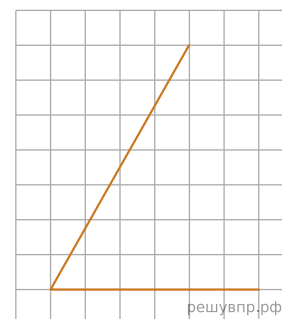
2. На клетчатой бумаге с размером клетки 1×1 изображён острый угол. Найдите тангенс этого угла. Ответ запишите в виде несократимой дроби.

Ответ:



3. На клетчатой бумаге с размером клетки 1×1 изображён острый угол. Найдите тангенс этого угла.

Ответ:



4. На клетчатой бумаге с размером клетки 1×1 изображён острый угол. Найдите тангенс этого угла. Ответ запишите в виде несократимой дроби.

Ответ:

