




1. Отметьте на координатной прямой число $\sqrt{102}$.




2. Отметьте на координатной прямой число $9\sqrt{2}$.




3. Отметьте на координатной прямой число $2\sqrt{2}$.




4. Отметьте на координатной прямой число $3\sqrt{17}$.




5. Отметьте на координатной прямой число $\sqrt{159}$.




6. Отметьте на координатной прямой число $\sqrt{119}$.




7. Отметьте на координатной прямой число $\sqrt{77}$.




8. Отметьте на координатной прямой число $\sqrt{187}$.




9. Отметьте на координатной прямой число $\sqrt{173}$.




10. Отметьте на координатной прямой число $2\sqrt{13}$.




11. Отметьте на координатной прямой число $\sqrt{38}$.




12. Отметьте на координатной прямой число $\sqrt{83}$.




13. Отметьте на координатной прямой число $\sqrt{113}$.




14. Отметьте на координатной прямой число $\sqrt{67}$.




15. Отметьте на координатной прямой число $\sqrt{46}$.




16. Отметьте на координатной прямой число $\sqrt{178}$.




17. Отметьте на координатной прямой число $\sqrt{62}$.




18. Отметьте на координатной прямой число $\sqrt{97}$.




19. Отметьте на координатной прямой число $4\sqrt{6}$.




20. Отметьте на координатной прямой число $2\sqrt{34}$.




21. Отметьте на координатной прямой число $\sqrt{185}$.




22. Отметьте на координатной прямой число $2\sqrt{11}$.



23. Отметьте на координатной прямой число $\sqrt{93}$.




24. Отметьте на координатной прямой число $\sqrt{33}$.




25. Отметьте на координатной прямой число $\sqrt{123}$.



26. Отметьте на координатной прямой число $2\sqrt{37}$.



27. Отметьте на координатной прямой число $2\sqrt{31}$.



28. Отметьте на координатной прямой число $\sqrt{95}$.

