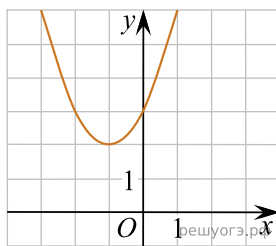
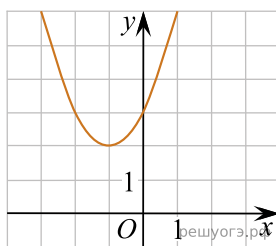


1. Найдите значение a по графику функции $y = ax^2 + bx + c$, изображенному на рисунке.



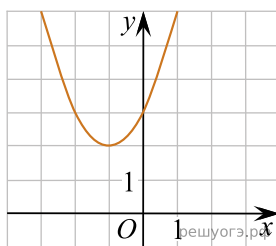
- 1) -1 2) 1 3) 2 4) 3

2. Найдите значение b по графику функции $y = ax^2 + bx + c$, изображенному на рисунке.



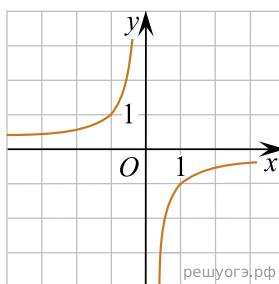
- 1) -2 2) 1 3) 2 4) 3

3. Найдите значение c по графику функции $y = ax^2 + bx + c$, изображенному на рисунке.

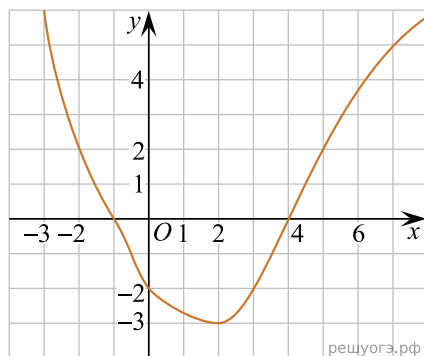


- 1) -3 2) 1 3) 2 4) 3

4. Найдите значение k по графику функции $y = \frac{k}{x}$, изображенному на рисунке.

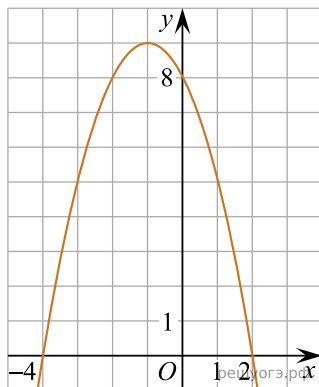


5. На рисунке изображен график функции $y = f(x)$. Какие из утверждений относительно этой функции неверны? Укажите их номера.



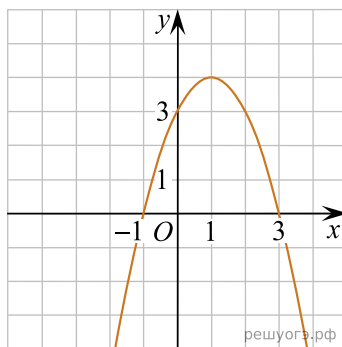
- 1) функция возрастает на промежутке $[-2; +\infty)$
- 2) $f(3) > f(-3)$
- 3) $f(0) = -2$
- 4) прямая $y = 2$ пересекает график в точках $(-2; 2)$ и $(5; 2)$

6. На рисунке изображен график квадратичной функции $y = f(x)$. Какие из следующих утверждений о данной функции неверны? Запишите их номера в порядке возрастания.



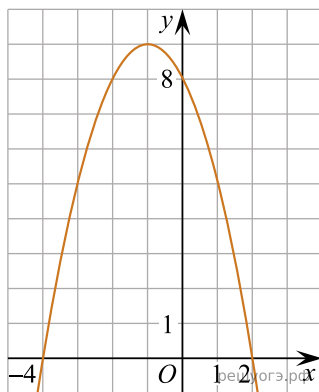
- 1) Функция возрастает на промежутке $(-\infty; -1]$.
- 2) Наибольшее значение функции равно 8.
- 3) $f(-4) \neq f(2)$.

7. На рисунке изображен график квадратичной функции $y = f(x)$. Какое(-ие) из следующих утверждений о данной функции неверно(-ы)? Запишите выбранный(-ые) номер(-а).



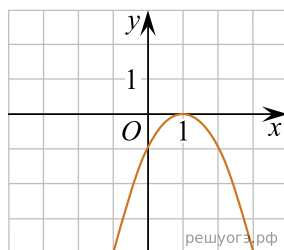
- 1) $f(-1) = f(3)$.
- 2) Наибольшее значение функции равно 3.
- 3) $f(x) > 0$ при $-1 < x < 3$.

8. На рисунке изображен график квадратичной функции $y = f(x)$. Какие из следующих утверждений о данной функции неверны? Запишите их номера.



- 1) Наибольшее значение функции равно 9.
- 2) $f(0) > f(1)$.
- 3) $f(x) > 0$ при $x < 0$.

9. На рисунке изображен график функции $y = ax^2 + bx + c$. Установите соответствие между утверждениями и промежутками, на которых эти утверждения выполняются. Впишите в приведенную в ответе таблицу под каждой буквой соответствующую цифру.



УТВЕРЖДЕНИЯ

- А) функция возрастает на промежутке
- Б) функция убывает на промежутке

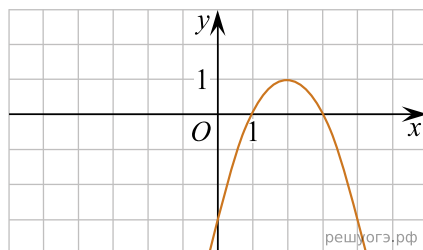
ПРОМЕЖУТКИ

- 1) [1; 2]
- 2) [0; 2]
- 3) [-1; 0]
- 4) [-2; 3]

Запишите в ответ цифры, расположив их в порядке, соответствующем буквам:

А	Б

10. На рисунке изображен график функции вида $y = ax^2 + bx + c$. Установите соответствие между утверждениями и промежутками, на которых эти утверждения выполняются. Впишите в приведенную в ответе таблицу под каждой буквой соответствующую цифру.



УТВЕРЖДЕНИЯ

- А) функция возрастает на промежутке
- Б) функция убывает на промежутке

ПРОМЕЖУТКИ

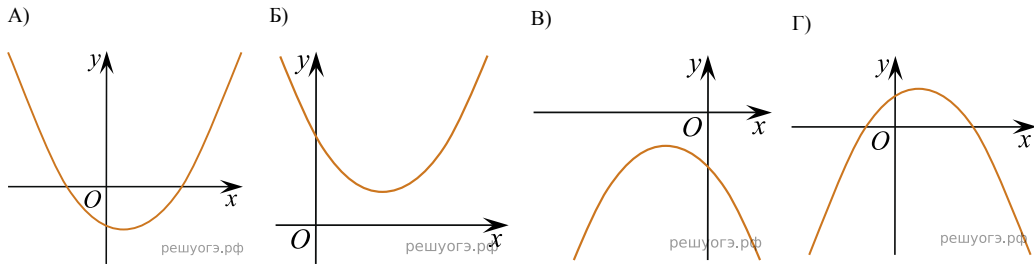
- 1) [0; 3]
- 2) [-1; 1]
- 3) [2; 4]
- 4) [1; 4]

Запишите в ответ цифры, расположив их в порядке, соответствующем буквам:

А	Б

11. На рисунке изображены графики функций вида $y = ax^2 + bx + c$. Для каждого графика укажите соответствующие ему значения коэффициента a и дискриминанта D .

Графики



Знаки чисел

1) $a > 0, D > 0$

2) $a > 0, D < 0$

3) $a < 0, D > 0$

4) $a < 0, D < 0$

Запишите в ответ цифры, расположив их в порядке, соответствующем буквам:

А	Б	В	Г