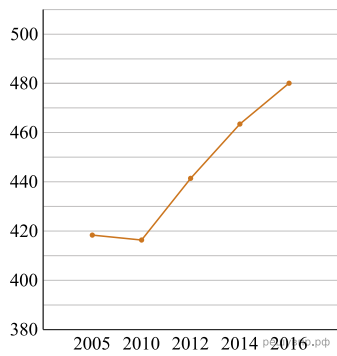
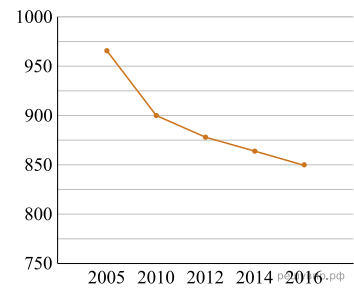


1. Рассмотрите диаграмму, на которой изображена динамика численности населения в тысячах человек. Проанализируйте её и сопоставьте субъект каждому графику.

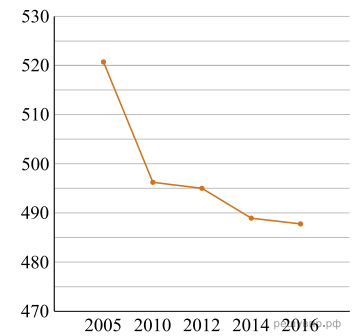
Субъекты РФ	2005 г.	2010 г.	2012 г.	2014 г.	2016 г.
1 Республика Коми	963	899	880	864	850
2 Республика Ингушетия	417	415	442	464	481
3 Сахалинская область	521	497	494	488	487
4 Калининградская область	936	942	955	969	986



А



Б



В

1. Перед вами три таблицы, сопоставьте каждой субъект РФ, согласно данной диаграмме.
2. Изобразите недостающий график.

2. Самым известным и престижным турниром по автомобильным гонкам считается чемпионат мира «Формула-1». В этих соревнованиях ежегодно принимают участие 10 команд, за каждую из которых выступают два пилота (гонщика). В течение спортивного сезона проводится несколько этапов (соревнований) «Формулы-1». Эти этапы проводятся в разных странах и называются Гран-при (франц. Grand Prix — большая, главная премия), например, Гран-при Австрии, Гран-при Бельгии.

В зависимости от места, которое занял пилот на очередном этапе, он получает некоторое количество очков. Чем выше место, тем больше очков. В течение сезона ведётся подсчёт суммы очков каждого спортсмена. Чемпионом мира становится спортсмен, набравший наибольшую сумму очков за все гонки сезона.

С 16 сентября по 25 ноября состоялось семь этапов «Формулы-1» сезона 2018 года. Во всех этих гонках принимали участие Валттери Боттас, Кими Райкконен и Макс Ферстаппен. В таблице показано, какое место занял каждый из этих трёх спортсменов на каждом этапе. Прочтите фрагмент сопровождающей статьи.

Гран-при Сингапура	
Гран-при России	
Гран-при Японии	
Гран-при Мексики	
Гран-при США	
Гран-при Бразилии	
Гран-при Абу-Даби	

Этап	Спортсмен		
	А	Б	В
Гран-при Сингапура	4	5	2
Гран-при Россия	2	4	5
Гран-при Японии	2	5	3
Гран-при Мексики	5	1	2
Гран-при США	5	3	1
Гран-при Бразилии	5	3	2
Гран-при Абу-Даби	5	19	3

На последних семи этапах «Формулы-1» 2018 года Ферстаппен и Боттас в каждой гонке попали в десятку лучших. Лучший результат, который смог показать Боттас на этих этапах, — призовое 2-е место. Райкконен один раз смог занять 1-е место.

Даниэль Риккардо тоже принимал участие во всех этих семи гонках. На Гран-при Сингапура он финишировал сразу следом за Кими Райкконеном, заняв то же место и в следующем этапе. На Гран-при Японии Риккардо поднялся на два места (по отношению к занятому месту на предыдущем этапе). В следующей гонке Даниэль Риккардо ухудшил свой результат, заняв 16-е место, а затем опустился ещё на одно место. На предпоследнем этапе Риккардо обогнал Боттаса, но не смог обогнать Райкконена. На Гран-при Абу-Даби Риккардо обогнал и Боттаса, и Райкконена, но не смог обогнать Ферстаппена.

- 1) На основании прочитанного определите, какому спортсмену соответствует столбец А.
- 2) По имеющемуся описанию заполните таблицу, показывающую места, занятые Даниэлем Риккардо на последних семи этапах «Формулы-1» в 2018 году.

3. Самым известным и престижным турниром по автомобильным гонкам считается чемпионат мира «Формула-1». В этих соревнованиях ежегодно принимают участие 10 команд, за каждую из которых выступают два пилота (гонщика). В течение спортивного сезона проводится несколько этапов (соревнований) «Формулы-1». Эти этапы проводятся в разных странах и называются Гран-при (франц. Grand Prix — большая, главная премия), например, Гран-при Австрии, Гран-при Бельгии.

В зависимости от места, которое занял пилот на очередном этапе, он получает некоторое количество очков. Чем выше место, тем больше очков. В течение сезона ведётся подсчёт суммы очков каждого спортсмена. Чемпионом мира становится спортсмен, набравший наибольшую сумму очков за все гонки сезона.

С 17 сентября по 26 ноября состоялось семь этапов «Формулы-1» сезона 2017 года. Во всех этих гонках принимали участие Валттери Боттас, Даниэль Риккардо и Себастьян Феттель. В таблице показано, какое место занял каждый из этих трёх спортсменов на каждом этапе. Прочтите фрагмент сопровождающей статьи.

Гран-при Сингапура	
Гран-при Малайзии	
Гран-при Японии	
Гран-при США	
Гран-при Мексики	
Гран-при Бразилии	
Гран-при Абу-Даби	

Этап	Спортсмен		
	А	Б	В
Гран-при Сингапура	3	2	18
Гран-при Малайзии	5	3	4
Гран-при Японии	4	3	19
Гран-при США	5	18	2
Гран-при Мексики	2	20	4
Гран-при Бразилии	2	6	1
Гран-при Абу-Даби	1	20	3

На последних семи этапах «Формулы-1» 2017 года Риккардо и Феттель по три раза попали в тройку лучших. Лучший результат, который смог показать Риккардо на этих этапах, — призовое 2-е место. Боттас один раз смог занять 1-е место.

Кими Райкконен тоже принимал участие во всех этих семи гонках. На Гран-при Сингапура он занял последнее, 20-е место, повторив этот результат и в следующей гонке. На Гран-при Японии Кими Райкконен финишировал сразу следом за Валттери Боттасом, а в следующей гонке — сразу следом за Себастьяном Феттелем. На Гран-при Мексики Райкконен обошёл Феттеля, но не смог обогнать Боттаса. На Гран-при Бразилии Кими Райкконен снова финишировал сразу следом за Валттери Боттасом, а в последней гонке — сразу следом за Себастьяном Феттелем.

- 1) На основании прочитанного определите, какому спортсмену соответствует столбец А.
- 2) По имеющемуся описанию заполните таблицу, показывающую места, занятые Кими Райкконеном на последних семи этапах «Формулы-1» в 2017 году.

4. Самым известным и престижным турниром по автомобильным гонкам считается чемпионат мира «Формула-1». В этих соревнованиях ежегодно принимают участие 10 команд, за каждую из которых выступают два пилота (гонщика). В течение спортивного сезона проводится несколько этапов (соревнований) «Формулы-1». Эти этапы проводятся в разных странах и называются Гран-при (франц. Grand Prix — большая, главная премия), например, Гран-при Австрии, Гран-при Бельгии.

В зависимости от места, которое занял пилот на очередном этапе, он получает некоторое количество очков. Чем выше место, тем больше очков. В течение сезона ведётся подсчёт суммы очков каждого спортсмена. Чемпионом мира становится спортсмен, набравший наибольшую сумму очков за все гонки сезона.

С 17 сентября по 26 ноября состоялось семь этапов «Формулы-1» сезона 2017 года. Во всех этих гонках принимали участие Валттери Боттас, Даниэль Риккардо и Себастьян Феттель. В таблице показано, какое место занял каждый из этих трёх спортсменов на каждом этапе. Прочтите фрагмент сопровождающей статьи.

Гран-при Малайзии	
Гран-при Японии	
Гран-при США	
Гран-при Мексики	
Гран-при Бразилии	
Гран-при Абу-Даби	

Этап	Спортсмен		
	А	Б	В
Гран-при Сингапура	18	2	3
Гран-при Малайзии	4	3	5
Гран-при Японии	19	3	4
Гран-при США	2	18	5
Гран-при Мексики	4	20	2
Гран-при Бразилии	1	6	2
Гран-при Абу-Даби	3	20	1

На последних семи этапах «Формулы-1» 2017 года Риккардо и Феттель по три раза попали в тройку лучших. Лучший результат, который смог показать Риккардо на этих этапах, — призовое 2-е место. Боттас один раз смог занять 1-е место.

Макс Ферстаппен тоже принимал участие во всех этих семи гонках. На Гран-при-Сингапура он занял одно из последних, 19-е место. На Гран-при Японии Ферстаппен обогнал и Боттаса, и Риккардо, и Феттеля, но не смог занять первое место, которое он сумел отвоевать на гонках в Малайзии и в Мексике. На Гран-при США Ферстаппен опередил Валттери Боттаса на одно место. На Гран-при Бразилии он отстал от Себастьяна Феттеля на четыре места, заняв то же место и в следующей гонке.

- 1) На основании прочитанного определите, какому спортсмену соответствует столбец Б.
- 2) По имеющемуся описанию заполните таблицу, показывающую места, занятые Максом Ферстаппеном на последних семи этапах «Формулы-1» в 2017 году.

Этап	Место, занятое Максом Ферстаппеном
------	------------------------------------

5. Самым известным и престижным турниром по автомобильным гонкам считается чемпионат мира «Формула-1». В этих соревнованиях ежегодно принимают участие 10 команд, за каждую из которых выступают два пилота (гонщика). В течение спортивного сезона проводится несколько этапов (соревнований) «Формулы-1». Эти этапы проводятся в разных странах и называются Гран-при (франц. Grand Prix — большая, главная премия), например, Гран-при Австрии, Гран-при Бельгии.

В зависимости от места, которое занял пилот на очередном этапе, он получает некоторое количество очков. Чем выше место, тем больше очков. В течение сезона ведётся подсчёт суммы очков каждого спортсмена. Чемпионом мира становится спортсмен, набравший наибольшую сумму очков за все гонки сезона.

С 20 сентября по 2 декабря состоялось семь этапов «Формулы-1» сезона 2019 года. Во всех этих гонках принимали участие Пьер Гасли, Себастьян Феттель и Шарль Леклер. В таблице показано, какое место занял каждый из этих трёх спортсменов на каждом этапе. Прочтите фрагмент сопровождающей статьи.

Этап	Спортсмен		
	А	Б	В
Гран-при Сингапура	8	1	2
Гран-при России	14	18	3
Гран-при Японии	7	2	6
Гран-при Мексики	9	2	4
Гран-при США	16	20	4
Гран-при Бразилии	2	17	18
Гран-при Абу-Даби	18	5	3

На последних семи этапах «Формулы-1» 2019 года Гасли и Феттель по четыре раза попали в десятку лучших. Лучший результат, который смог показать Гасли на этих этапах, — второе место. Леклер также выше 2-го места на этих этапах не поднимался.

Ландо Норрис тоже принимал участие во всех этих семи гонках. На Гран-при Сингапура он опередил Пьера Гасли на одно место. На Гран-при России Норрис опустился на одно место (по отношению к занятому месту на предыдущем этапе), заняв то же место в двух последних этапах сезона. На Гран-при Японии он отстал от Гасли на четыре места, а на следующем этапе занял последнее, 20-е место. На Гран-при США Ландо Норрис попал в десятку лучших, заняв то же место, что и на Гран-при Сингапура.

- 1) На основании прочитанного определите, какому спортсмену соответствует столбец А.
- 2) По имеющемуся описанию заполните таблицу, показывающую места, занятые Ландо Норрисом на последних семи этапах «Формулы-1» в 2019 году.

Этап	Место, занятое Ландо Норрисом

Гран-при России	
Гран-при Японии	
Гран-при Мексики	
Гран-при США	
Гран-при Бразилии	
Гран-при Абу-Даби	

6. Самым известным и престижным турниром по автомобильным гонкам считается чемпионат мира «Формула-1». В этих соревнованиях ежегодно принимают участие 10 команд, за каждую из которых выступают два пилота (гонщика). В течение спортивного сезона проводится несколько этапов (соревнований) «Формулы-1». Эти этапы проводятся в разных странах и называются Гран-при (франц. Grand Prix — большая, главная премия), например, Гран-при Австрии, Гран-при Бельгии.

В зависимости от места, которое занял пилот на очередном этапе, он получает некоторое количество очков. Чем выше место, тем больше очков. В течение сезона ведётся подсчёт суммы очков каждого спортсмена. Чемпионом мира становится спортсмен, набравший наибольшую сумму очков за все гонки сезона.

С 20 сентября по 2 декабря состоялось семь этапов «Формулы-1» сезона 2019 года. Во всех этих гонках принимали участие Пьер Гасли, Себастьян Феттель и Шарль Леклер. В таблице показано, какое место занял каждый из этих трёх спортсменов на каждом этапе. Прочтите фрагмент сопровождающей статьи.

Этап	Спортсмен		
	А	Б	В
Гран-при Сингапура	2	1	8
Гран-при Россия	3	18	14
Гран-при Японии	6	2	7
Гран-при Мексики	4	2	9
Гран-при США	4	20	16
Гран-при Бразилии	18	17	2
Гран-при Абу-Даби	3	5	18

На последних семи этапах «Формулы-1» 2019 года Гасли и Феттель по четыре раза попали в десятку лучших. Лучший результат, который смог показать Гасли на этих этапах, — призовое 2-е место. Леклер также выше 2-го места на этих этапах не поднимался.

Льюис Хэмилтон тоже принимал участие во всех этих семи гонках. На Гран-при Сингапура он отстал от Леклера на два места. А на Гран-при США Хэмилтон опередил Леклера на два места. На Гран-при Японии Хэмилтон финишировал сразу следом за Себастьяном Феттелем. На этапах турнира в России, в Мексике и в Абу-Даби Хэмилтону удалось завоевать первые места. Но на Гран-при Бразилии Льюис Хэмилтон занял только седьмое место.

- 1) На основании прочитанного определите, какому спортсмену соответствует столбец А.
- 2) По имеющемуся описанию заполните таблицу, показывающую места, занятые Льюисом Хэмилтоном на последних семи этапах «Формулы-1» в 2019 году.

Этап	Место, занятое Льюисом Хэмилтоном
Гран-при Сингапура	

Гран-при России	
Гран-при Японии	
Гран-при Мексики	
Гран-при США	
Гран-при Бразилии	
Гран-при Абу-Даби	

7. Чемпионаты мира по футболу проводятся с 1930 года раз в четыре года. Чтобы попасть в финальную часть чемпионата сначала национальные команды соревнуются в отборочных турнирах.

Финальная часть чемпионата мира начинается с группового этапа. Команды разбиваются на 8 групп, по четыре команды в каждой, и играют между собой в группах. По две лучших команды из каждой группы, всего 16 команд, выходят в заключительную стадию чемпионата, которая называется «плей-офф». Сначала проходят восемь игр этапа «1/8 финала». Проигравшие выбывают, а победители выходят в следующий этап — «1/4 финала». На этом этапе проигравшие также выбывают, а победители выходят в «полуфинал». Таким образом, в полуфинале проводится два матча. Победители полуфинальных матчей могут продолжить борьбу в финальном матче за первое и второе места, а проигравшие встречаются в игре за третье и четвёртое места.

Чемпионат мира по футболу 2010 года проходил в ЮАР. Лучшими командами турнира стали сборные Германии, Испании, Нидерландов и Уругвая. Каждая из них к моменту финальных игр сыграла по 6 матчей: по 3 матча в групповом этапе и по 3 матча в плей-офф.

В таблице показано количество мячей, забитых командами Германии, Испании и Нидерландов в первых 6 играх чемпионата мира 2010 года. Рассмотрите таблицу и прочтите фрагмент сопровождающей статьи.

Команда	Групповой этап			Плей-офф		
	1-я игра	2-я игра	3-я игра	1/8 финала	1/4 финала	1/2 финала
А	2	1	2	2	2	3
Б	0	2	2	1	1	1
В	4	0	1	4	4	0

На этапе плей-офф сборная Испании забила меньше всех других команд, игравших в полуфинале, а сборная Германии — больше всех. Рекорд по количеству забитых голов в одной игре установили немцы.

Сборная Уругвая в первом матче не забила ни одного мяча — это был их худший результат, который в последующих играх не повторился. Во втором матче уругвайцы трижды поразили ворота соперника, а в 1/8 финала и в полуфинале они забили на 1 гол меньше. Общее количество мячей, забитых уругвайцами во всех шести играх, равно 9.

- 1) На основании прочитанного определите, какой сборной соответствует строка А.
- 2) По имеющемуся описанию заполните таблицу, показывающую количество голов, забитых сборной Уругвая в первых шести матчах чемпионата мира 2010 года.