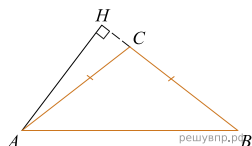


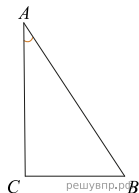
При выполнении заданий с кратким ответом впишите в поле для ответа цифру, которая соответствует номеру правильного ответа, или число, слово, последовательность букв (слов) или цифр. Ответ следует записывать без пробелов и каких-либо дополнительных символов. Дробную часть отделяйте от целой десятичной запятой. Единицы измерений писать не нужно.

Если вариант задан учителем, вы можете вписать или загрузить в систему ответы к заданиям с развернутым ответом. Учитель увидит результаты выполнения заданий с кратким ответом и сможет оценить загруженные ответы к заданиям с развернутым ответом. Выставленные учителем баллы отобразятся в вашей статистике.

1. В треугольнике ABC $AC = BC$, $AB = 10$, высота AH равна 3. Найдите синус угла BAC .

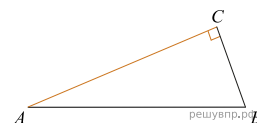


2. В треугольнике ABC угол C равен 90° , $\sin A = 0,1$. Найдите $\cos B$.

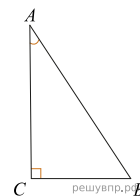


3. В треугольнике ABC $AC = BC = 5$, $\sin A = \frac{7}{25}$. Найдите AB .

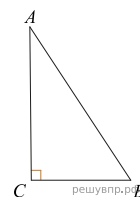
4. В треугольнике ABC угол C равен 90° , $\operatorname{tg} A = 0,5$, $BC = 4$. Найдите AC .



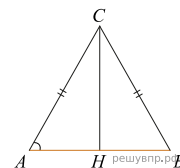
5. В треугольнике ABC угол C равен 90° , $\cos A = \frac{4}{\sqrt{17}}$. Найдите $\operatorname{tg} A$.



6. В треугольнике ABC угол C равен 90° , $AB = 5$, $\sin A = \frac{7}{25}$. Найдите AC .

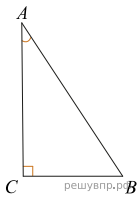


7. В треугольнике ABC $AC = BC = 8$, $\cos A = 0,5$. Найдите AB .

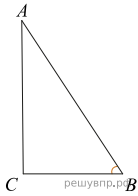


Вариант № 28704

8. В треугольнике ABC угол C равен 90° , $AB = 8$, $BC = 4$. Найдите $\sin A$.



9. В треугольнике ABC угол C равен 90° , $\cos A = \frac{7}{25}$. Найдите $\cos B$.



10. В треугольнике ABC угол C равен 90° , угол A равен 30° , $AB = 2\sqrt{3}$. Найдите высоту CH .

