

При выполнении заданий с кратким ответом впишите в поле для ответа цифру, которая соответствует номеру правильного ответа, или число, слово, последовательность букв (слов) или цифр. Ответ следует записывать без пробелов и каких-либо дополнительных символов. Дробную часть отделяйте от целой десятичной запятой. Единицы измерений писать не нужно.

Если вариант задан учителем, вы можете вписать или загрузить в систему ответы к заданиям с развернутым ответом. Учитель увидит результаты выполнения заданий с кратким ответом и сможет оценить загруженные ответы к заданиям с развернутым ответом. Выставленные учителем баллы отобразятся в вашей статистике.

1. Найдите значения выражения $3 : \left(\frac{6}{7} - \frac{3}{4}\right)$.

ИЛИ

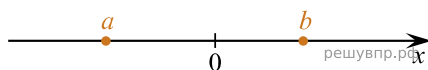
Найдите значения выражения $4,5 \cdot 5,4 - 6,1$.

2. Решите уравнение $(5x - 2)(-x + 3) = 0$.

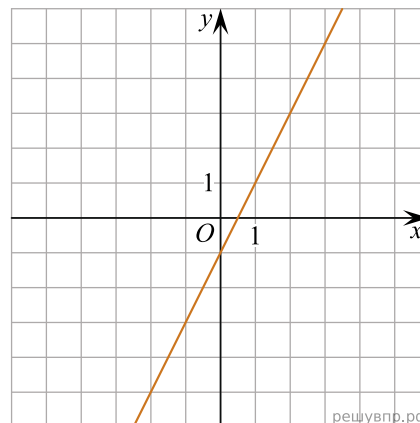
Если корней несколько, запишите их в ответ без пробелов в порядке возрастания.

3. Площадь земель фермерского хозяйства, отведённых под посадку сельскохозяйственных культур, составляет 72 га и распределена между зерновыми и зернобобовыми культурами в отношении 7 : 2 соответственно. Сколько гектаров занимают зернобобовые культуры?

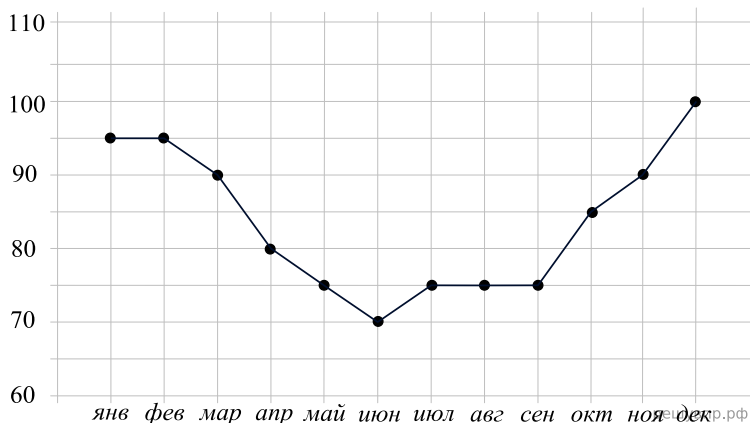
4. На координатной прямой отмечены числа a и b . Отметьте на прямой какую-нибудь точку x так, чтобы при этом выполнялись три условия: $x - a > 0$, $x - b < 0$ и $a^2x > 0$.



5. На рисунке изображён график линейной функции. Напишите формулу, которая задаёт эту линейную функцию.



6. Потребление электроэнергии измеряется в киловатт-часах (кВт · ч). Жирными точками показано потребление электроэнергии в некоторой стране в течение 2016 года в миллиардах кВт · ч. Для наглядности точки соединены линиями. Данные округлены до 5 млрд кВт · ч.



На диаграмме видно, что потребление электроэнергии в середине года существенно ниже, чем в начале и конце года. Чем это можно объяснить? Можно ли предположить, в каком полушарии находится эта страна – в Южном или в Северном? Можно ли что-то сказать о том, суровые ли зимы в этой стране? Напишите два-три предложения, в которых кратко выскажите и обоснуйте своё мнение по этим вопросам.

7. На соревнованиях по фигурному катанию каждый элемент имеет базовую стоимость и судейскую оценку. Девять судей независимо друг от друга выставляют за каждый элемент свои оценки от -5 до $+5$ баллов. Затем самая высокая и самая низкая оценки отбрасываются. Среднее арифметическое оставшихся семи оценок, округлённое до сотых, прибавляется к базовой стоимости. Полученная сумма является итоговой оценкой за элемент. Фигуристу Артёму Петрову судьи поставили оценки за три элемента. Эти оценки и базовая стоимость каждого элемента показаны в таблице. Определите, за какой элемент Артём Петров получил наиболее высокую оценку. В ответе запишите этот элемент и оценку за него *без пробелов и других дополнительных символов*.

Элементы	Базовая стоимость	Оценки судей								
		0	1	2	1	1	1	0	1	1
Сальхов	4,3	0	1	2	1	1	1	0	1	1
Каскад	6,1	-2	-3	-2	-1	-2	-1	-2	-3	-1
Лутц	5,9	-1	-1	0	1	0	-1	0	0	0

8. Отметьте на координатной прямой числа $\sqrt{10}$ и $\sqrt{34}$.



9. Найдите значение выражения $\frac{xy + y^2}{8x} \cdot \frac{4x}{x + y}$ при $x = \sqrt{3}$, $y = -5, 2$.

10. На фестивале выступают группы — по одной от каждой из заявленных стран, среди этих стран Румыния, Болгария и Греция. Порядок выступления определяется жребием. Какова вероятность того, что группа из Румынии будет выступать до группы из Болгарии, но после группы из Греции?

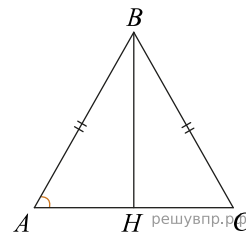
Ответ:

11. Свежие абрикосы содержат 88% воды, а сушеные абрикосы (курага) — 30%. Сколько требуется свежих абрикосов для приготовления 72 кг кураги?

12. На клетчатой бумаге с размером клетки 1×1 отмечены точки A и B . Найдите расстояние между этими точками.



13. Дан треугольник ABC . Известно, что $AB = BC = 25$, $AC = 40$. Найдите синус угла A .



14. Укажите номер верного утверждения.

- 1) Если в параллелограмме две стороны равны, то такой параллелограмм является ромбом.
- 2) Если в четырёхугольнике две диагонали равны и перпендикулярны, то такой четырёхугольник — квадрат.
- 3) Если в ромбе диагонали равны, то такой ромб является квадратом.
- 4) Углы при меньшем основании трапеции тупые.