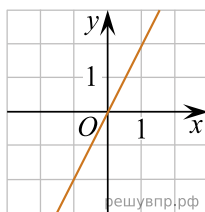


Установите соответствие между графиками функций и формулами, которые задают эти функции

ГРАФИКИ

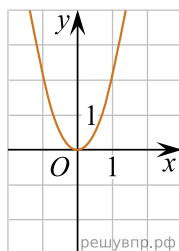
ФОРМУЛЫ

А)

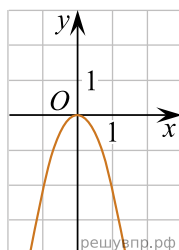


- 1) $y = -2x^2$
- 2) $y = 2x^2$
- 3) $y = 2x$
- 4) $y = -2x$

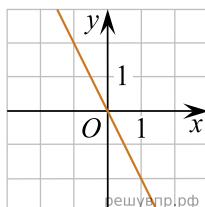
Б)



В)



Г)



Запишите в ответ цифры, расположив их в порядке, соответствующем буквам:

А	Б	В	Г