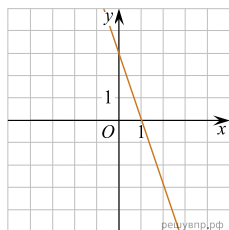


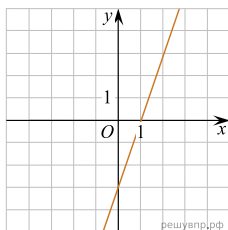
Установите соответствие между графиками функций и формулами, которые задают эти функции.

ГРАФИКИ

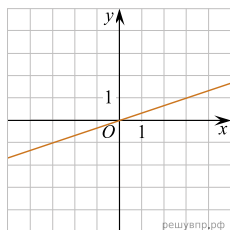
А)



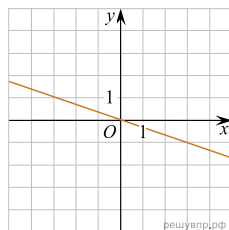
Б)



В)



Г)



ФОРМУЛЫ

1) $y = -3x + 3$; 2) $y = 3x - 3$; 3) $y = -\frac{1}{3}x$; 4) $y = \frac{1}{3}x$.

Запишите в ответ цифры, расположив их в порядке, соответствующем буквам:

А	Б	В	Г