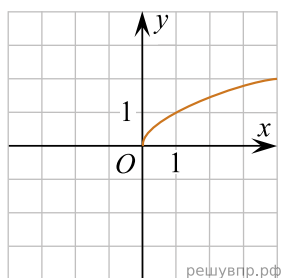


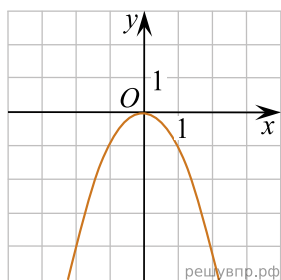
Установите соответствие между графиками функций и формулами, которые задают эти функции.

ГРАФИКИ

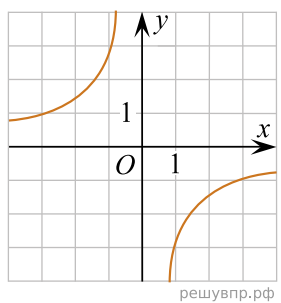
А)



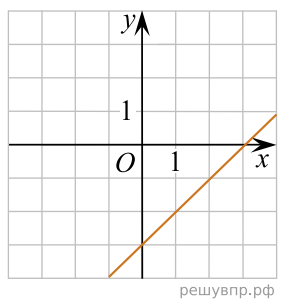
Б)



В)



Г)



ФОРМУЛЫ

- 1) $y = \sqrt{x}$
- 2) $y = -\frac{3}{x}$
- 3) $y = -x^2$
- 4) $y = x - 3$

В таблице под каждой буквой укажите соответствующий номер.

А	Б	В	Г