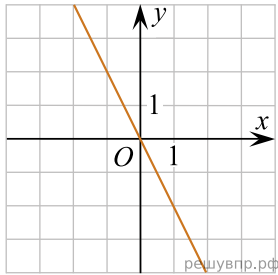


Установите соответствие между графиками функций и формулами, которые задают эти функции.

ГРАФИКИ

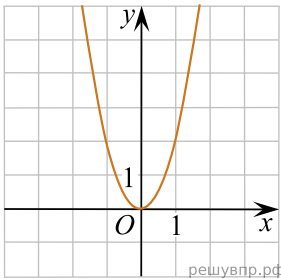
ФОРМУЛЫ

А)

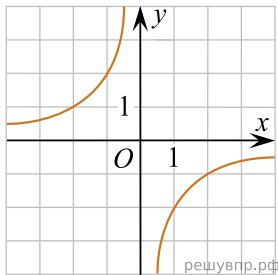


- 1)  $y = \sqrt{x}$
- 2)  $y = -\frac{2}{x}$
- 3)  $y = 2x^2$
- 4)  $y = -2x$

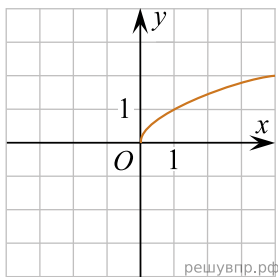
Б)



В)



Г)



В таблице под каждой буквой укажите соответствующий номер.

А	Б	В	Г