

Установите соответствие между функциями и их графиками.

Функции

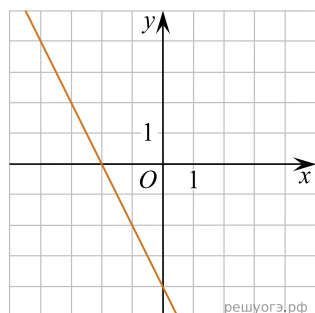
A) $y = -2x + 4$

Б) $y = 2x - 4$

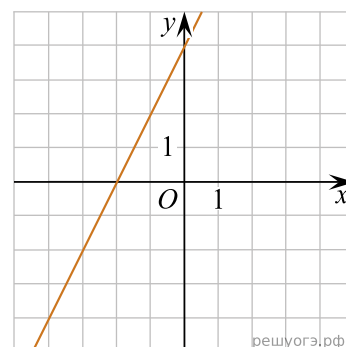
В) $y = 2x + 4$

Графики

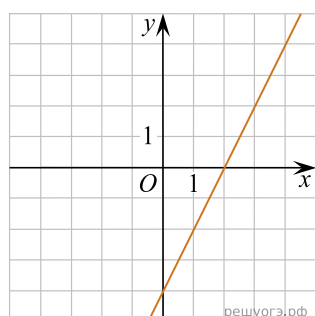
1)



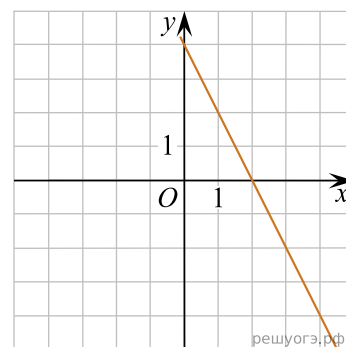
2)



3)



4)



Запишите в ответ цифры, расположив их в порядке, соответствующем буквам:

А	Б	В