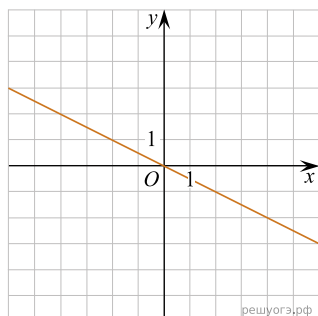
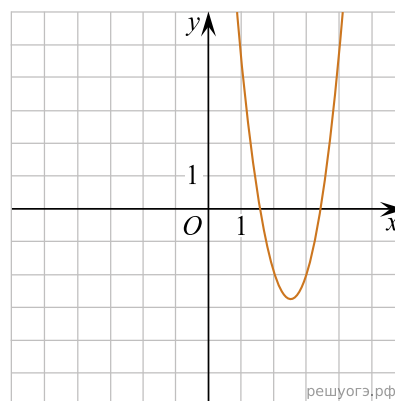


На одном из рисунков изображен график функции $y = \frac{12}{x}$. Укажите номер этого рисунка.

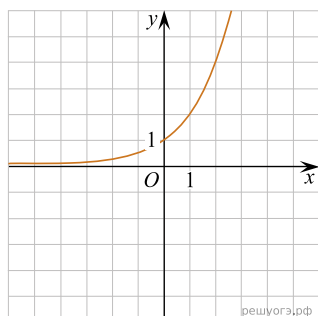
1)



2)



3)



4)

