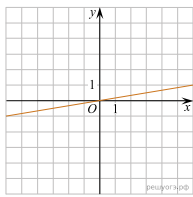
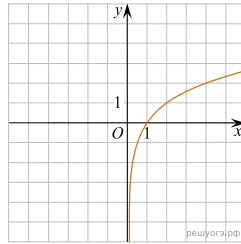


На одном из рисунков изображен график функции  $y = 3x^2 + 15x + 17$ . Укажите номер этого рисунка.

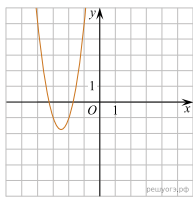
1)



2)



3)



4)

