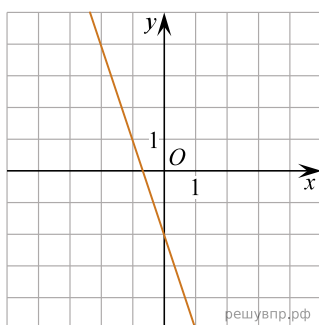


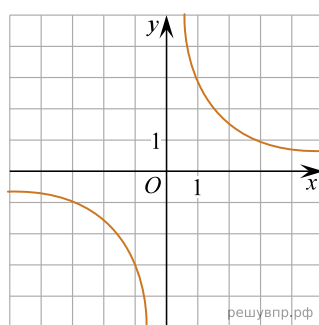
Установите соответствие между графиками функций и формулами, которые задают эти функции.

ГРАФИКИ

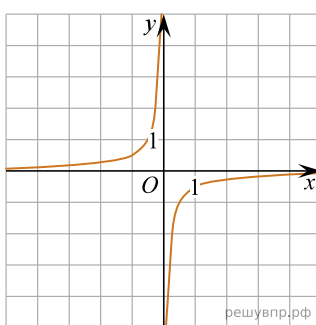
А)



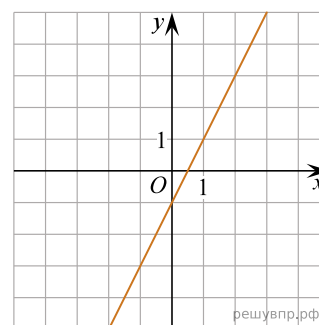
Б)



В)



Г)



ФОРМУЛЫ

- 1) $y = 2x - 1$; 2) $y = -3x - 2$; 3) $y = \frac{3}{x}$; 4) $y = -\frac{1}{2x}$.

Запишите в ответ цифры, расположив их в порядке, соответствующем буквам:

| А | Б | В | Г |
|---|---|---|---|
| | | | |